


姓名 \_\_\_\_\_



玉兔月月和玉兔亮亮枱上有6個月餅。數數碟上和籃裡有多少月餅？把正確的數字填上  內。



 和   
是 6



 和   
是 6



 和   
是 6







 和   
是 6

姓名 \_\_\_\_\_



玉兔秋秋有6個燈籠，她想將其中5個燈籠送給玉兔月月 and 玉兔亮亮？把正確的數字填上  內。

 <p>和</p> <p>是 5</p>	 <p>和</p> <p>是 5</p>
 <p>和</p> <p>是 5</p>	 <p>和</p> <p>是 5</p>


姓名 \_\_\_\_\_

玉兔秋秋有7個燈籠，她想將其中6個燈籠和玉兔月月，玉兔亮亮分享，她應該怎樣分呢？請你填上數字在☁內。






姓名 \_\_\_\_\_

乘一乘, 把正確的數字填上  內。



$45 \div 5 = \text{cloud}$

$36 \div 4 = \text{cloud}$

$18 \div 6 = \text{cloud}$

$56 \div 7 = \text{cloud}$

$12 \div 6 = \text{cloud}$

$48 \div 8 = \text{cloud}$

$49 \div 7 = \text{cloud}$

$40 \div 8 = \text{cloud}$

$42 \div 6 = \text{cloud}$

$18 \div 9 = \text{cloud}$


$32 \div 4 = \text{cloud}$

$25 \div 5 = \text{cloud}$

$27 \div 3 = \text{cloud}$

$28 \div 7 = \text{cloud}$


$36 \div 9 = \text{cloud}$



姓名 \_\_\_\_\_

玉兔亮亮有5個月餅，他想和玉兔月月分享，5個月餅怎樣分呢？請你填上數字在☁內。

<p>5</p> <p>☁ 2 ☁ 3</p>	<p>5</p> <p>☁ 3 ☁ 2</p>
<p>5</p> <p>☁ 1 ☁ 4</p>	<p>5</p> <p>☁ 3 ☁ 2</p>



姓名 \_\_\_\_\_

乘一乘，把正確的數字填上 ☁ 內。



$48 \div \text{☁} = 8$	$21 \div \text{☁} = 3$	$30 \div \text{☁} = 5$
------------------------	------------------------	------------------------

$36 \div \text{☁} = 4$	$12 \div \text{☁} = 3$	$45 \div \text{☁} = 5$
------------------------	------------------------	------------------------

$42 \div \text{☁} = 7$	$64 \div \text{☁} = 8$	$63 \div \text{☁} = 9$
------------------------	------------------------	------------------------

$30 \div \text{☁} = 5$	$24 \div \text{☁} = 6$	$28 \div \text{☁} = 4$
------------------------	------------------------	------------------------

$72 \div \text{☁} = 9$	$56 \div \text{☁} = 8$	$32 \div \text{☁} = 4$
------------------------	------------------------	------------------------





姓名 \_\_\_\_\_

乘一乘, 把正確的數字填上 ☁ 內。




$7 \times \text{☁} = 42$	$6 \times \text{☁} = 30$	$4 \times \text{☁} = 16$
--------------------------	--------------------------	--------------------------

$5 \times \text{☁} = 45$	$8 \times \text{☁} = 56$	$3 \times \text{☁} = 21$
--------------------------	--------------------------	--------------------------

$9 \times \text{☁} = 54$	$2 \times \text{☁} = 18$	$7 \times \text{☁} = 35$
--------------------------	--------------------------	--------------------------

$4 \times \text{☁} = 24$	$6 \times \text{☁} = 48$	$3 \times \text{☁} = 12$
--------------------------	--------------------------	--------------------------

$8 \times \text{☁} = 32$	$5 \times \text{☁} = 25$	$6 \times \text{☁} = 36$
--------------------------	--------------------------	--------------------------




姓名 \_\_\_\_\_

乘一乘, 把正確的數字填上 ☁ 內。




$3 \times 4 =$ ☁	$9 \times 3 =$ ☁	$2 \times 8 =$ ☁
$2 \times 6 =$ ☁	$8 \times 8 =$ ☁	$3 \times 9 =$ ☁
$4 \times 7 =$ ☁	$7 \times 5 =$ ☁	$7 \times 7 =$ ☁
$6 \times 8 =$ ☁	$5 \times 8 =$ ☁	$6 \times 4 =$ ☁
$5 \times 3 =$ ☁	$4 \times 7 =$ ☁	$3 \times 7 =$ ☁





姓名 \_\_\_\_\_

減一減, 把正確的數字填上  內。



$$8 - 6 = \text{mooncake icon}$$

個月餅 食咗



$$8 - 3 = \text{mooncake icon}$$

個月餅 食咗



$$8 - 5 = \text{mooncake icon}$$

個月餅 食咗



$$8 - 4 = \text{mooncake icon}$$

個月餅 食咗

姓名 \_\_\_\_\_

減一減, 把正確的數字填上 ☁ 內。



$$7 - 4 = \text{☁}$$

個燈籠 送咗



$$7 - 2 = \text{☁}$$

個燈籠 送咗



$$7 - 3 = \text{☁}$$

個燈籠 送咗



$$7 - 5 = \text{☁}$$

個燈籠 送咗